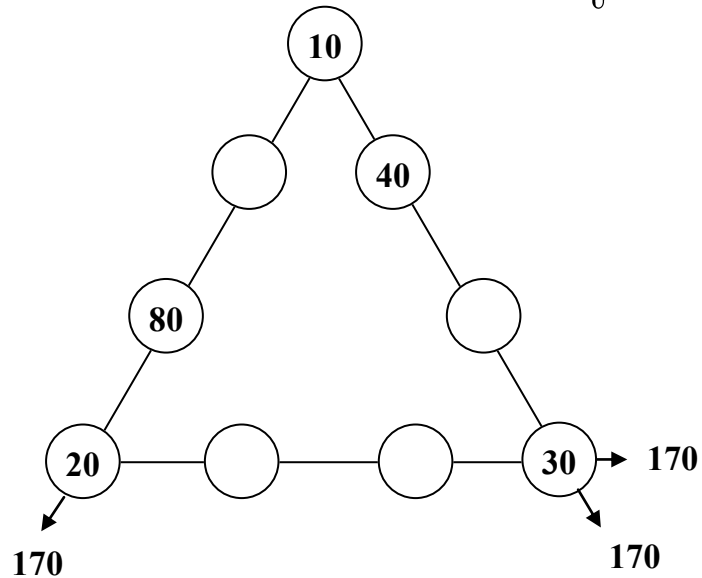


Le triangle magique

En utilisant une seule fois 50-60-70-90, trouve comment faire 170..



Grille de nombres

Complète la grille en suivant les consignes.

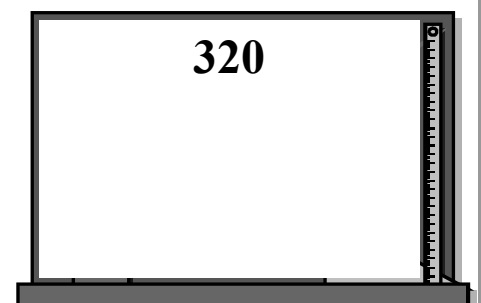



	E	F	G	H
A				
B				
C				
D				

- A 500 + 20
- B 3 x 25 ■ double de 4
- C 2 centaines 4 dizaines 8 unités
- D Double de 3 ■ 2 x 30
- E (2 x 25) + 7 ■ Moitié de 12
- F 200 + 50 + 2
- G 8 - 8 ■ 40 + 6
- H 800 + 80

Le compte est juste

En utilisant une seule fois 3 7 20 30 comment fait-on ?



Règle du jeu: Tu n'es pas obligé d'utiliser tous les nombres. Tu peux utiliser +, - et x.